

Природа и друштво

Провера знања

- Одговори на следећа питања и задатке:

1. Заокружи слике обновљивих извора енергије:



2. Угаљ (необновљиви извор енергије) користимо за (заокружи):

а) грејање

б) покретање аутомобила

3. Напиши шта је приказано на сликама.



Да ли се помоћу приказаног на сликама може произвести електрична енергија?(заокружи)

а) Да

б) Не

4. Наброј шта све чини животну средину човека:

5. Заокружи слике на којима је приказано да човек брине о својој животној средини.



6. Шта је то рециклажа? Наброј шта све можемо рециклирати.

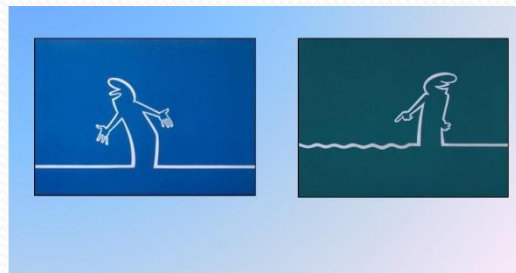
7. Заокружи слике природних материјала:





8. Да ли је пластика природни или вештачки материјал?
Шта све можемо направити од пластике?

9. Од којих материјала је направљен ауто?


10. Каква све може бити путања тела?



11. Заокружи слику на којој је приказан пример периодичног кретања.



12. Шта је приказано на слици, која природна појава?



13. Шта се десило са косом девојчице на следећој слици?

